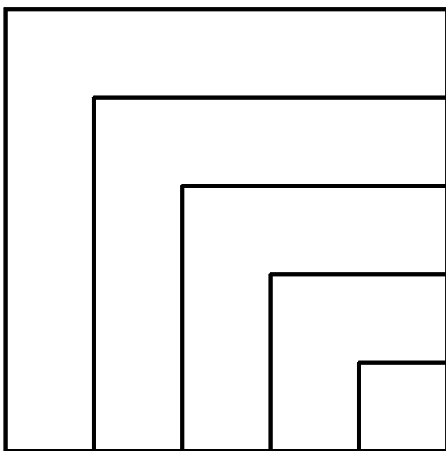
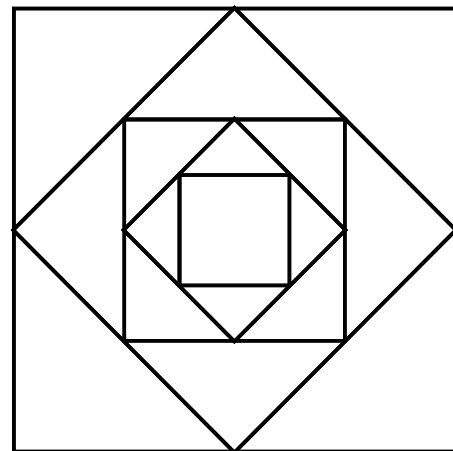

Problema – 10. CON CINCO CUADRADOS

Para dos ventanales cuadrados de dos metros de lado queremos forjar estas dos rejas. Prescindiendo del grosor de los empalmes y las soldaduras, calcula la longitud de barrotos de hierro necesaria para cada una de ellas.

Cuestión A.



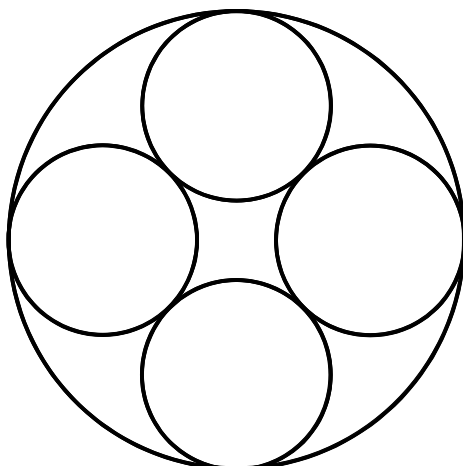
Cuestión B.



Problema – 11. CON CINCO CÍRCULOS

Análogamente, la longitud de los barrotos de hierro de estas dos rejas destinadas a dos ventanales circulares de dos metros de diámetro.

Cuestión C.



Cuestión D.

